

中3公民 消費と流通 <テスト対策問題>

練習1

食べ物や衣類など形のある商品を財というのに対し、電車やバスに乗ったり、美容室で髪を切ったりするなど、形のない商品を何というか。

【解答欄】

| |
|--|
| |
|--|

練習2

次の文章中の①、②に適語を入れよ。

商品のうち、目に見え、形をもつものを(①)という。形のない商品を(②)という。人々はお金を払って(①)や(②)を買い、消費して生活している。

【解答欄】

| | |
|---|---|
| ① | ② |
|---|---|

練習3

Nさんは、午前中、歯の治療を受けて治療費として460円支払った。午後は買い物に出かけ、500円のハンカチと4000円のバッグ、480円の魚と200円の食パンを買った。帰りはバスに乗り、バス代180円を支払った。Nさんがサービスに支払った金額はいくらか。

【解答欄】

| |
|--|
| |
|--|

練習4

次の各問いに答えよ。

- (1) 私たちが家族や個人として消費生活を営む単位を何というか。
- (2) 会社で働いて得る給料や賃金などの収入を何というか。
- (3) 農業や商店などを経営して得られる収入を何というか。

【解答欄】

| | | |
|-----|-----|-----|
| (1) | (2) | (3) |
|-----|-----|-----|

練習5

次の文章中の①～④に適語を入れよ。

消費生活を営む経済活動の単位が(①)である。(①)の収入には、会社などで働いて得られる賃金などの(②), 農業や商店を営んで得られる(③), 利子・配当・地代・家賃などの(④)などがある。

【解答欄】

| | | | |
|---|---|---|---|
| ① | ② | ③ | ④ |
|---|---|---|---|

練習 6

次の文の①, ②に適語を入れよ。

家計の収入から、食料品、被服、娯楽などの(①)支出と税金・社会保険料などの非(①)支出を差し引いた残額を(②)という。(②)は将来の支出に備えるためのものである。

【解答欄】

| | |
|---|---|
| ① | ② |
|---|---|

練習 7

次の各問いに答えよ。

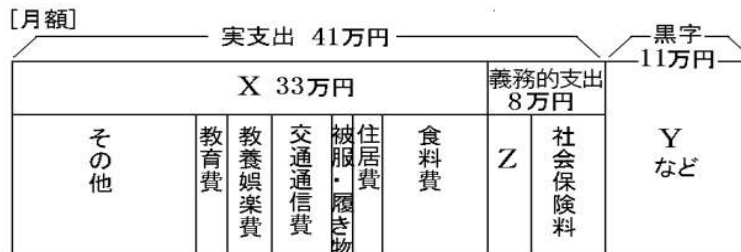
- (1) 家庭の経済活動を何というか。
- (2) (1)の支出のうち、食料費、被服費、住居費、光熱・水道費、交通・通信費、教育費、娯楽費など、生活に必要な財やサービスに対する支出を何というか。
- (3) (1)の支出のうち、税金や社会保険料などに対する支出を何というか。
- (4) (1)の収入から(2)と(3)を差し引いた残額を何というか。

【解答欄】

| | | | |
|-----|-----|-----|-----|
| (1) | (2) | (3) | (4) |
|-----|-----|-----|-----|

練習 8

ある家計の月当たり支出を表した次のグラフを見て、後の各問いに答えよ。



- (1) X, Y にあてはまる語句を、それぞれ書け。
- (2) Z に含まれるものを次から 1 つ選べ。

[国債 税金 株式 銀行預金]

【解答欄】

| | | |
|------|---|-----|
| (1)X | Y | (2) |
|------|---|-----|

練習 9

次の表は、ある月の A さんの家計について表したものである。次の各問いに答えよ。

| | |
|--------|-----------|
| 収入 | 277,000 円 |
| 食料費 | 65,000 円 |
| 水道・光熱費 | 32,000 円 |
| 被服費 | 8,000 円 |
| 交通通信費 | 44,000 円 |
| 住居費 | 60,000 円 |
| 税金 | 29,000 円 |
| 社会保険料 | 16,000 円 |
| 生命保険料 | 8,000 円 |
| 銀行預金 | 15,000 円 |

- (1) A さんのある月の消費支出は、全部でいくらになるか。
- (2) A さんのある月の貯蓄は、全部でいくらになるか。
- (3) A さんの家のこの月の家計は、いくら黒字、またはいくら赤字になるか。

練習 10

【解答欄】

| | | |
|-----|-----|-----|
| (1) | (2) | (3) |
|-----|-----|-----|

練習 11

求める量に対して財やサービスの量が不足した状態を(X)があるという。これについて、次の各問いに答えよ。

- (1) X にあてはまる適語を答えよ。
- (2) 通常の生活では、水は水道の蛇口を回すだけで簡単に得られる。この場合の水の X は高いか、低いかな。
- (3) 砂漠でのどがかわいている人にとって、水の X は高いか、低いかな。

【解答欄】

| | | |
|-----|-----|-----|
| (1) | (2) | (3) |
|-----|-----|-----|

練習 12

最近では、現金の持ち合わせがなくても、あるカードをもっていれば後払いで商品を買うことができる。収入を考え無計画にならないように注意して使用する必要のあるこのカードは何か。

【解答欄】

練習 13

クレジットカードの利用が増えるにつれて、裁判所への申し立てが増加しているできごとは何か。

【解答欄】

練習 14

手元に現金がなくてもクレジットカードで商品を購入することができる。その際に注意しなければならないことを「返済可能な範囲」の語句を使って簡単に説明せよ。

【解答欄】

| |
|--|
| |
|--|

練習 15

次の各問いに答えよ。

- (1) 消費者が自分の意思と判断によって商品を購入すること、いいかえると消費者が商品のよしあしを自ら判断して購入を決めることを何というか。漢字 5 字で答えよ。
- (2) (1)の衰退とは、どのようなことをさすか。次のア～エから 2 つ選び、記号で答えよ。
 - ア 折り込み広告を比較して買う店を決め、商品を購入する。
 - イ テレビのコマーシャルやインターネット広告につられて商品を購入する。
 - ウ 訪問販売で販売員が誠実で親切だから、この販売員から商品を購入する。
 - エ キャッチセールスや電話勧誘商法では契約をしない。

【解答欄】

| | |
|-----|-----|
| (1) | (2) |
|-----|-----|

練習 16

自立した消費者になるためには、どのようなことを心がければよいか。「知識や情報」「判断力」という語句を使って簡単に書け。

【解答欄】

| |
|--|
| |
|--|

練習 17

1962 年に「安全を求める権利」「知らされる権利」「選択する権利」「意見を反映させる権利」の 4 つの消費者の権利を主張したアメリカ大統領はだれか。

【解答欄】

| |
|--|
| |
|--|

練習 18

次の各問いに答えよ。

- (1) 1962 年に消費者の 4 つの権利を明確にしたアメリカの大統領は誰か。
- (2) (1)の人物が明確にした 4 つの権利にあてはまらないのは次のア～オのどれか。
 - ア 安全を求める権利 イ 知らされる権利 ウ 選択する権利
 - エ 契約を取り消す権利 オ 意見を反映させる権利

【解答欄】

| | |
|-----|-----|
| (1) | (2) |
|-----|-----|

練習 19

1962年にアメリカの大統領がとなえた「消費者の4つの権利」とは、知らされる権利、選択する権利と、あと2つは何か。

【解答欄】

| |
|--|
| |
|--|

練習 20

次の各問いに答えよ。

- (1) 買い物をするとき、売り手と買い手の間で、何をいくらで売買するか、合意が成立している。このような当事者間での合意を何というか。
- (2) だれと、どのような内容の(1)を、どのような方法で結ぶのかは、基本的に自由である。この原則を何というか。

【解答欄】

| | |
|-----|-----|
| (1) | (2) |
|-----|-----|

練習 21

次のア～オの中で契約にあたるものをすべて選び、記号で答えよ。

- ア 電車に乗るために切符を買うこと。
- イ アルバイトをすること。
- ウ 友達と映画に行く約束をすること。
- エ 駅前で路上アンケートに答えること。
- オ インターネットで旅行先のホテルを予約すること。

【解答欄】

| |
|--|
| |
|--|

練習 22

製品の欠陥によって消費者が被害を受けた場合、企業に過失がなくても被害者の救済を企業に義務付ける法律(略称はPL法)が制定された。この法律の正式名称を次の[]から選べ。

[製造物責任法 消費者基本法 独占禁止法 民法]

【解答欄】

| |
|--|
| |
|--|

練習 23

次の各問いに答えよ。

- (1) 次は何という法律か。

第 1 条 この法律は、製造物の欠陥により人の生命、身体又は財産に係る被害が生じた場合における製造業者等の損害賠償の責任について定めることにより、被害者の保護を図り、…

- (2) (1)の法律で救済されない事例を次のア～エから 1 つ選べ。

ア 留守中のビデオデッキから発火し、火災になった。

イ 本棚に足を掛けて棚の上のものを取ろうとして転倒し、けがをした。

ウ 買ったばかりのやかんで熱湯を注いでいたら取っ手がはずれてやけどを負った。

エ 通学中、乗っていた自転車のハンドルが突然はずれて交通事故を起こした。

【解答欄】

| | |
|-----|-----|
| (1) | (2) |
|-----|-----|

練習 24

次の各問いに答えよ。

- (1) 次の文章は、実際にあった事件のあらましである。この男性は、1995 年から施行された法律にもとづいて、食品メーカーを訴えた。この法律の名前を漢字で答えよ。

「1996 年 9 月、50 歳の男性が、パチンコの景品でもらったベーコンをその場で食べたところ、しばらくして下痢などの症状があらわれ病院で急性胃腸炎と診断された。病院でこのベーコンを調べた結果、カビが付着していたことが判明した。男性は同年 11 月に前橋地裁に提訴し、食品メーカーに対して休業補償や慰謝料を求めた。」

- (2) (1)の法律は、()場合、たとえ企業に過失がなくても、製造者である企業に損害賠償の責任を負わせるというもので、消費者の権利を守るための法律である。文中の()にあてはまることばを、「欠陥」「消費者」「被害」という語句を用いて書け。

【解答欄】

| | |
|-----|-----|
| (1) | (2) |
|-----|-----|

練習 25

訪問販売や電話勧誘などで商品を購入した場合、右の資料のような書類を、購入後 8 日以内に、特定記録郵便などで売り手に送付すれば、契約の解除をすることができる。この制度を何というか。

【解答欄】

| |
|--|
| |
|--|

| | |
|-----------------------------|---------------------------|
| 通知書 | |
| 次の契約を解除することを通知します。 | |
| 契約年月日 | 平成〇年〇月〇日 |
| 商品名 | 〇〇〇〇〇 |
| 販売会社 | 株式会社〇〇〇 〇〇営業所 担当者 〇〇〇〇 |
| クレジットカード会社 | △△△株式会社 |
| 支払った代金〇〇円を返金し、商品を引き取ってください。 | |
| 平成〇年〇月〇日 〇〇〇〇 | |

練習 26

Aさんは、訪問販売で高価な英語の教材を購入してしまったが、支払いが大変で購入をやめたいと思っている。どうしたらよいだろうか。次のア～エから1つ選べ。

ア 10日以内に、電話をかけて契約を解除することを伝える。

イ 8日以内に、特定記録郵便で契約を解除することを伝える。

ウ 8日以内に、支払いをしなければ自動的に契約は解除される。

エ いったん契約してしまったら取り消すことは難しいので、購入するのが望ましい。

【解答欄】

練習 27

A君のおばあさんは、路上で声をかけられ、高額な食器を売りつけられてしまった。次の各問いに答えよ。

(1) このような悪質商法を何というか。次の[]から1つ選べ。

[キャッチセールス アポイントメント商法 催眠商法 かたり商法]

(2) Aくんはおばあさんに、契約の解除の制度があることを教えてあげた。この制度を何というか。

【解答欄】

| | |
|-----|-----|
| (1) | (2) |
|-----|-----|

練習 28

クーリング・オフとは何か。簡潔に説明せよ。ただし、解答文の最初を、「訪問販売や電話勧誘などで…」という書き出しで書き、解答文の最後は、「…という制度のこと。」という書き方で終わること。

【解答欄】

練習 29

「重要な項目について、事実とは異なることを伝えた」「消費者の不利益になる事実をわざと伝えなかった」「将来不確実なことを、断定して伝えた」「意思に反して、帰ってくれなかったり、帰らせてくれなかったりした」「通常必要とされる分量をいちじるしくこえていた」などの場合、契約締結から5年以内で、違法と気づいてから1年以内であれば、契約を取り消すことができると定めた法律は何か。

【解答欄】

練習 30

次の事例①～③を解決するためにどのような法律や制度を活用すべきか。活用できる法律名または制度名をそれぞれ答えよ。

- ① 2年前に知人の紹介で車を購入したが、事故車であるとわかったので契約を取り消したい。購入の際に事故車ではないことは口頭で確認済みである。
- ② 自宅に訪問販売員が来て、1時間以上浄水器の営業トークを聞かせられ、根負けしてしまい、購入してしまった。契約から5日間が経過しているが契約を解除したい。
- ③ オレンジジュースの中に入っていた異物によりのどを負傷した。製造した企業に損害賠償を求めたい。

【解答欄】

| | | |
|---|---|---|
| ① | ② | ③ |
|---|---|---|

練習 31

医薬品や食品による健康被害、欠陥住宅、詐欺などのように、商品の購入をめぐって発生する問題を何というか。

【解答欄】

練習 32

1968年に制定された消費者保護基本法は、2004年に改正されて(X)という法律になった。(X)は、政府には消費者の権利を尊重するとともに消費者の自立を支援する責務があることを定めている。文中のXに適する法律名を答えよ。

【解答欄】

練習 33

次の各問いに答えよ。

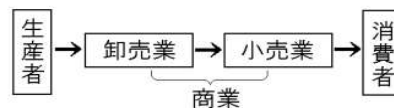
- (1) 2004年に改正され、「国や地方公共団体が消費者の権利を守ること」を定めた法律を何というか。
- (2) 2009年に発足した、消費者行政を扱う行政機関を何というか。

【解答欄】

| | |
|-----|-----|
| (1) | (2) |
|-----|-----|

練習 34

右図のように、商品が生産者から消費者に販売されるまでの間の流れを(X)といい、これに携わる仕事を商業という。商業には、卸売業と小売業がある。文中のXに適語を入れよ。

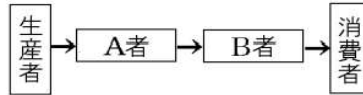


【解答欄】

練習 35

右の図をみて、次の各問いに答えよ。

- (1) 図中の A, B に適する語句を答えよ。
- (2) 図が示すように、商品が生産者から、消費者に届くまでの流れを何というか。



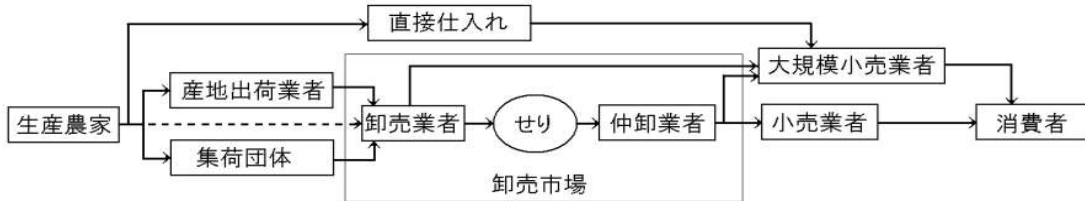
【解答欄】

| | | |
|------|---|-----|
| (1)A | B | (2) |
|------|---|-----|

練習 36

次の図を参考にして、後の文章中の①～⑤に適語を入れよ。

【野菜が消費者に届くまで】



生産された商品が、人手を経て消費者に届くまでの道筋を商品の(①)といい、それを専門に行うのが、卸売業や(②)などの(③)の活動である。野菜や魚の場合は、青果市場や魚市場で(④)にかけられ、生産者→卸売業者→(④)→仲卸業者→(②)者→消費者と取引される。工業製品の場合は、生産者→(⑤)などの卸売業者→小売業者→消費者と商品が流通する。輸入品の場合には、商社などが(⑤)の役割を果たしている。スーパーマーケット、百貨店、家電量販店などの大規模小売店は、商品を生産者から直接仕入れて消費者に販売する。

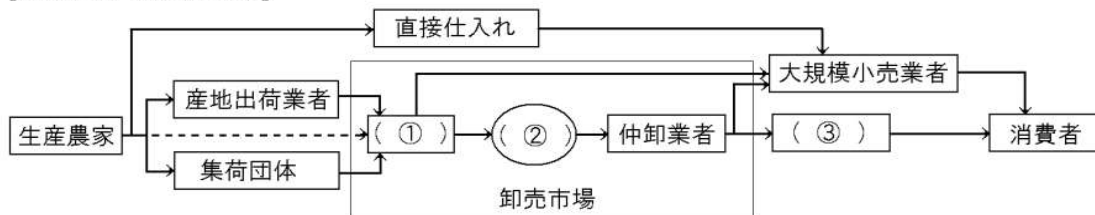
【解答欄】

| | | | |
|---|---|---|---|
| ① | ② | ③ | ④ |
| ⑤ | | | |

練習 37

次の資料を見て、各問いに答えよ。

【野菜が消費者に届くまで】



- (1) 資料のように、生産された商品が消費者に届くまでの流れを何というか。
- (2) 資料中の①～③にあてはまる語句を次の[]から1つずつ選べ。
[小売業者 保険業者 せり 生産者 卸売業者]
- (3) 工業製品の場合、図中の①にあたるものを何というか。
- (4) 図中の「大規模小売店」にあてはまるものを2つ書け。

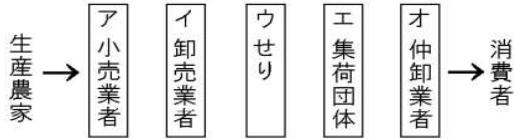
【解答欄】

| | | | |
|-----|------|---|---|
| (1) | (2)① | ② | ③ |
| (3) | (4) | | |

練習 38

次の各問いに答えよ。

- (1) 生産された商品が消費者に届くまでの流れを何というか。
- (2) 野菜が生産農家から消費者に届くまでの流れに関わるものを示した次の 5 枚のカードを、流れの順になるように並べよ。

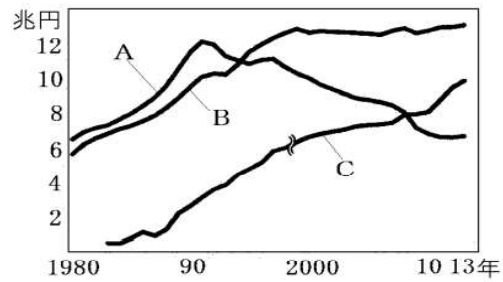


【解答欄】

| | |
|-----|-----|
| (1) | (2) |
|-----|-----|

練習 39

右のグラフは大型スーパーマーケット、コンビニエンスストア、百貨店の販売額の推移を表したグラフであるが、コンビニエンスストアの販売額を示したグラフは A～C のどれか。



【解答欄】

練習 40

コンビニエンスストアが近年急激に増加したのはなぜか。利用する消費者側の理由を具体的に 1 つ書け。（「便利だから」だけでは×）

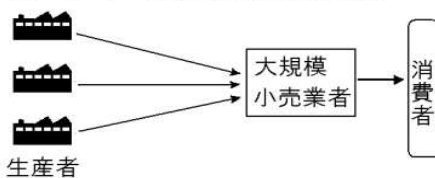
【解答欄】

練習 41

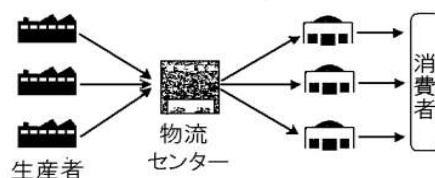
次の文中の①、②に適語を入れよ。

商品が生産者から消費者に届くまでの道筋を(①)という。最近では、下の図のように、大規模小売店が生産者からの直接仕入れを行ったり、フランチャイズ店やチェーン店が商品の一括仕入れを行ったりして流通費用の削減をはかるなど、(①)の(②)化が進んでいる。これによって、流通費用を削減し、より安い価格で商品を販売することができるようになり、その分、売り上げを伸ばすことが期待できる。

スーパーマーケットなど：直接仕入れ



フランチャイズ店・チェーン店：一括仕入れ

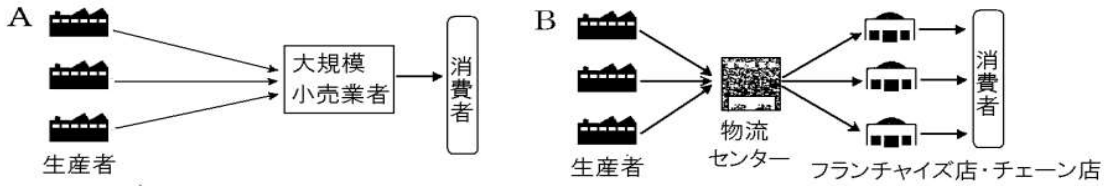


【解答欄】

| | |
|---|---|
| ① | ② |
|---|---|

練習 42

次の資料について、後の文中の①～③に適語を入れよ。



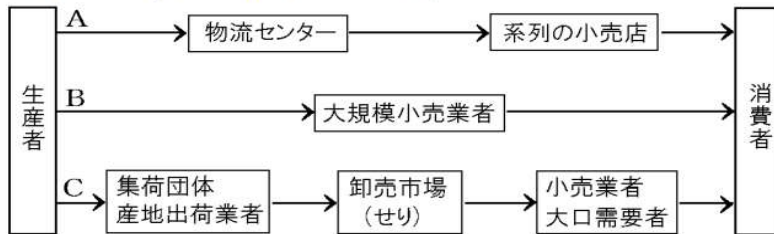
A は大規模小売業者が生産者からの(①)仕入れを行うようすを、B はフランチャイズ店やチェーン店などが(②)仕入れを行うようすを示している。いずれの場合も、流通費用の削減を行うために流通の(③)に努めている。

【解答欄】

| | | |
|---|---|---|
| ① | ② | ③ |
|---|---|---|

練習 43

次の資料を見て、後の各問いに答えよ。

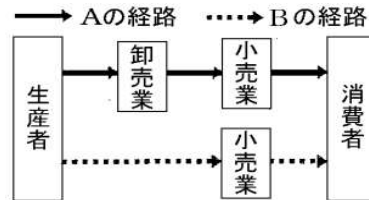


- (1) 資料のような、生産された商品が、卸売業者や小売業者を経て消費者に届くまでの流れを何というか。
- (2) 野菜や魚などの生鮮食品のおもな経路は、A～Cのどれか。1つ選び記号で答えよ。
- (3) 資金力のあるデパートやスーパーマーケットが、費用の節減のために利用する商品の経路は、A～Cのどれか。1つ選び記号で答えよ。
- (4) Aのように、商品を一括で仕入れて、費用の削減を図っている小売店は、次の[]のどれか。適切なものを2つ選べ。
[チェーン店 個人店 フランチャイズ店 卸売店 産地直売店]
- (5) (3)や(4)のように、商品の流れを効率化することを何というか。

練習 44

右図のBの経路は、消費者にとってどのような影響があるか。次の文中の()の正しい語句を1つずつ選べ。

Bの経路は、人手を経る回数がAの経路よりも①(多い/少ない)ため、費用の節減ができるので、小売価格はAの経路よりも一般的に②(高く/安く)なる。



【解答欄】

| | |
|---|---|
| ① | ② |
|---|---|

練習 45

次の各問いに答えよ。

- (1) 大規模小売店などが進めている商品の直接仕入れや一括仕入れなどを、流通の()という。()にあてはまる語句を漢字 3 文字で書け。
- (2) (1)の目的を「人手」「流通費用」の語句を使い、「～ため」でおわるように書け。

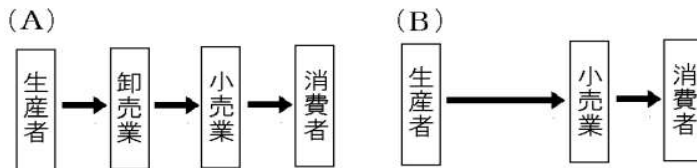
【解答欄】

| | |
|-----|-----|
| (1) | (2) |
|-----|-----|

練習 46

次の資料の(A)と(B)は、商品が生産者から消費者に届くまでの流れを示したものである。

後の各問いに答えよ。



- (1) このように、商品が消費者に届くまでの流れを何というか。
- (2) (1)の流れが複雑になると、価格にどのような影響が出るか。
- (3) かつては、(A)のような流れが一般的であったが、近年では(B)のような流れが増えてきている。(A)と比較した場合の(B)の流れの利点を、「流通費用」「販売」の語句を使って説明せよ。

【解答欄】

| | |
|-----|-----|
| (1) | (2) |
| (3) | |

練習 47

次の文章中の①～④に適語を入れよ。

(①)の合理化を図るために、業者はさまざまなくふうを行っている。資金力のあるデパートやスーパーマーケットなどは、商品を直接生産者から仕入れて(①)費用の節約を図ろうとしている。フランチャイズ店やチェーン店では商品の(②)仕入れによって費用の削減を図っている。また、売り手と買い手をインターネットで結ぶ(③)は、(①)の経路を短縮するだけでなく、(④)費用を大幅に節約する試みとしても注目されている。

【解答欄】

| | | |
|---|---|---|
| ① | ② | ③ |
| ④ | | |

練習 48

次の文章中の①～④に適語を入れよ。

(①)の合理化を図るために、業者はさまざまなくふうを行っている。資金力のあるデパートやスーパーマーケットなどは、商品を直接生産者から仕入れて(①)費用の節約を図ろうとしている。フランチャイズ店やチェーン店では商品の(②)仕入れによって費用の削減を図っている。また、売り手と買い手をインターネットで結ぶ(③)は、(①)の経路を短縮するだけでなく、(④)費用を大幅に節約する試みとしても注目されている。

【解答欄】

| | | |
|---|---|---|
| ① | ② | ③ |
| ④ | | |

練習 49

次の各問いに答えよ。

- (1) 近年では、インターネットで商品を見た客から直接注文を受けて、宅配便などで商品を発送する販売方法が普及している。このような買い物のしかたを何というか。
- (2) 小売業者や卸売業者が商品を企画してメーカーに製造を依頼し、独自のブランドとして販売する商品を何というか。

【解答欄】

| | |
|-----|-----|
| (1) | (2) |
|-----|-----|

練習 50

コンビニエンスストアなどのレジでは、商品につけられているバーコードから情報を読み取り、代金を集計する。さらに、そのデータが本部などに送られて在庫管理や販売戦略の立案などに役立てられている。このように、商品ごとの売り上げ情報を管理するシステムを何というか。

【解答欄】

| |
|--|
| |
|--|

練習 51

POS システムについて述べた文として最も適切なものを、ア～エから選べ。

- ア IC カードや携帯電話を利用した電子マネーで、商品を購入できるしくみ。
イ 消費者が、インターネットやカタログなどによって、商品を購入できるしくみ。
ウ レジスターでバーコードなどから様々な情報を入力し、集計・管理するしくみ。
エ 小売業者が、生産者から直接大量の商品を仕入れ、消費者に安く売るしくみ。

【解答欄】

| |
|--|
| |
|--|

練習 52

流通の合理化として、企業が取り組んでいることとしてあてはまる内容を下のア～オから2つ選べ。

- ア 訪問販売で、一定期間内であれば、消費者が無条件に解約できるクーリング・オフ制度
- イ 商品の販売情報をすばやく処理し、販売戦略や在庫管理、製造に役立てる POS システム
- ウ 現金がなくても、カード会社が一時的に代金を立て替えて商品を購入できるクレジットカード
- エ 大規模小売店などが、商品の生産者からの直接仕入れや一括仕入れを行う。
- オ 電子商取引の一つであるネットオークションにより、商品を販売する。

[解答欄]